



BARANEEDHARAN  
EDUCATIONAL &  
CHARITABLE TRUST

# Aspire Academy

Learning Today... Leading Tomorrow

(Unit of Baraneedharan Educational & Charitable Trust)

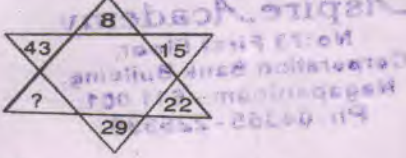
<http://kalviamuthu.blogspot.com>

-5-

D

பகுதி 'ஆ' : உளவியல்

51. காலியாக உள்ள இடத்தில் சரியான எண்ணை நிரப்பவும்



Aspire Academy

No:73 First Floor,  
Corporation Bank Building,  
Nagapattinam - 611 001.  
Ph:04365 - 225599

- A) 7 B) 50 C) 36 D) 22

52. பால்: தூய்மையானது :: விஷம்: ?

முதல் இரண்டு வார்த்தைகளுக்கு உள்ள தொடர்பை வைத்து மூன்றாவது வார்த்தைக்கு பொருத்தமானதை தேர்ந்தெடுக்கவும்

- A) கடுமையானது B) கொடியது C) கருமையானது D) வெண்மையானது

53. கீழே கொடுக்கப்பட்டுள்ள வெண்படங்களுள் வினாக்களுக்கு ஏற்ற சரியான விடையை தேர்வு செய்க

இந்தியா, பாகிஸ்தான், ஆசியா

- A) B) C) D)

54. "POPULATION" என்ற வார்த்தையிலிருந்து எழுத்துக்களை தோராயமாக எடுக்கப்பட்டால் 'P' என்ற எழுத்துக்குள்ள வாய்ப்பு என்ன?

- A)  $\frac{2}{10}$  B)  $\frac{1}{10}$  C)  $\frac{0.5}{10}$  D)  $\frac{5}{10}$

55. கொடுக்கப்பட்ட படத்தில் எத்தனை நேர்க்கோடுகள் உள்ளன?



- A) 10 B) 12 C) 13 D) 17

Aspire Academy

No:73 First Floor,  
Corporation Bank Building,  
Nagapattinam - 611 001.  
Ph:04365 - 225599

56. நிரப்புக



- A) B) C) D)

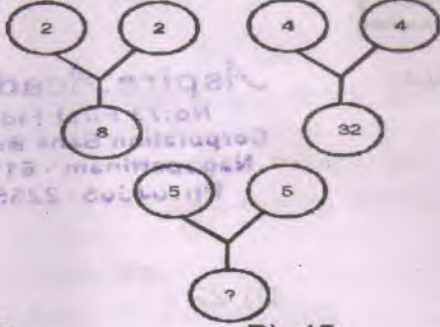




<http://kalviamuthu.blogspot.com>

D

57. நிரப்புக



A) 30

B) 45

C) 25

D) 50

58. வாக்கியங்கள்

- I. சில மருத்துவர்கள் முட்டாள்கள்
- II. ஆனந்த் ஒரு மருத்துவர்

முடிவு

1. சில முட்டாள்கள் மருத்துவர்கள்
2. ஆனந்த் ஒரு முட்டாளர்

A) 1மட்டும்

B) 2 மட்டும்

C) 1மற்றும் 2

D) இரண்டுமே அல்ல

59. கொடுக்கப்பட்டுள்ள தொடரில் விடுபட்ட எழுத்தை நிரப்புக  
m\_n m\_n \_an\_a\_ma\_

A) aamnan

B) ammanm

C) aammnn

D) amammn

60. WOLF என்பது FLOW ஆனால் 8526 என்பது ?

A) 2856

B) 6258

C) 5862

D) 5682

61. ஒரு ரகசிய மொழியில் 367 எனில் "YOU ARE BAD" என்றும் 748 எனில் "THEY ARE GOOD" என்றும் 469 எனில் "GOOD AND BAD" என்றும் இருந்தால். GOOD என்ற வார்த்தைக்கு ஏற்ற எண் எது ?

A) 4

B) 6

C) 9

D) 8

62. ஒருவர் ஒரு பெண்ணைப் பார்த்து சொன்னார், இவள் என் தகப்பனாரின் பேரனின் மனைவி. அந்த பெண் அந்த நபருக்கு எந்த முறையில் உறவு ?

A) சகோதரியின் மகள்

B) மைத்துனி

C) மருமகள்

D) மகள்

63. + என்பது X என்றும், - என்பது + என்றும், X என்பது - என்றும், + என்பது + என்றும் இருந்தால்  $209 - 0.19 + 2 \times 1050 \div 50$  ன் மதிப்பு காண்க.

A) 1400

B) 1250

C) 1150

D) 1200

64. 'அ' என்பது "ஆ" வின் சகோதரி. ஆனால் "ஆ" "அ" வின் சகோதரி அல்ல. "அ" விற்கும் "ஆ" விற்கும் உள்ள உறவு என்ன ?

A) சகோதரசகோதரி

B) சகோதரிகள்

C) சகோதரர்கள்

D) எதுவுமில்லை

65. ஒரு நகரத்தின் மக்கட்தொகை ஒரு வருடத்தில் 20,000 லிருந்து 25,000 ஆக உயர்ந்தால், உயர்ந்த சதவீதம் எவ்வளவு ?

A) 30%

B) 20%

C) 25%

D) 5%

66. கீழ்க்கண்ட பொருட்களில் குழுவோடு ஒத்துப்போகாதது எது ? தயிர், வெண்ணெய், எண்ணெய், பாலாடைக்கட்டி

A) தயிர்

B) வெண்ணெய்

C) எண்ணெய்

D) பாலாடைக்கட்டி

67. கீழ்க்கண்ட எழுத்து வரிசையில் அடுத்த வரிசை என்ன ?

aaaa..., bdzb..., cgac..., djzd... ?

A) enae

B) ekze

C) elxe

D) emae

68. காலியான இடத்தில் வரும் எழுத்து எது ?

G, \_\_, I, X, K, V, M, T

A) H

B) Y

C) Z

D) J

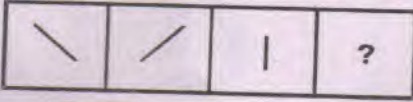




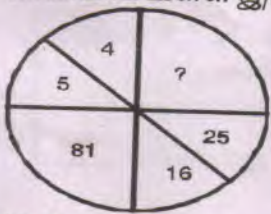




<http://kalviamuthu.blogspot.com>

-7-

D

69. கொடுக்கப்பட்ட தொடரில் அடுத்த எழுத்து என்ன ?  
GH, JL, NQ, SW, YD, ?  
A) EJ B) FJ C) EL D) FL
70. கீழ்வரும் எண் வரிசையில் அடுத்த எண் எது ?  
15, 12, 13, 10, 11, 8, ?  
A) 6 B) 7 C) 8 D) 9
71. கேள்விக்குறியை நிரப்பும் படம் எது ?  
  
 A)  B)  C)  D) 
72. ஒரு பெரிய பெட்டிக்குள் இரண்டு சிறிய பெட்டிகள், அந்த சிறிய பெட்டிக்குள் இரண்டு சிறிய பெட்டிகள், மொத்தம் எத்தனை பெட்டிகள் ?  
A) 4 B) 7 C) 5 D) 6
73. கேள்விக்குறியை நிரப்பும் எழுத்து எது ?  
AAZ, BBY, CC ?  
A) Y B) D C) Z D) X
74. கணவர் மற்றும் மனைவியின் சராசரி வயது 22 ஆக இருந்தது 5 ஆண்டுகளுக்கு முன்பு, அவர்கள் திருமணம் ஆனபோது அவர்களுக்கு 3 வயதில் குழந்தை இருந்தால் குடும்பத்தின் தற்போதைய சராசரி வயது என்ன ஆகிறது ?  
A) 19 B) 25 C) 27 D) 28½
75. ஐந்து நண்பர்கள் P, Q, R, S, T வட்டமாக மையத்தை நோக்கி அமர்ந்துள்ளனர். R என்பவர் T யின் இடது புறத்தில் உள்ளார். P என்பவர் S க்கும் T க்கும் நடுவில் உள்ளார். எவர் R இன் இடது புறத்தில் இருக்கிறார் ?  
A) P B) Q C) S D) T
76. இன்று திங்கட்கிழமை, 66 நாட்கள் கழிந்தால் \_\_\_\_\_ கிழமை வரும்.  
A) புதன் B) சனி C) செவ்வாய் D) வியாழன்
77. 40 குழந்தைகள் நிற்கும் வரிசையில் இடது புறமிருந்து 13வதாக நிற்பது P. வலது புறமிருந்து 9வதாக நிற்பது Q, Qவின் இடப்புறமிருந்து நான்காவதாக நிற்பது R எனில், P க்கும் R க்கும் இடையே எவ்வளவு குழந்தைகள் நிற்கின்றனர் ?  
A) 13 B) 14 C) 15 D) 12
78. A:F :: S : ?  
முதல் இரண்டு எழுத்துகளுக்கும் தொடர்பு இருக்கிறது. அதே முறையில் மூன்றாவது எழுத்துக்கு தொடர்புடைய எழுத்தை பின்வருவனவற்றிலிருந்து தேர்ந்தெடுக்கவும்  
A) X B) Y C) W D) R
79. தனித்து நிற்கும் எழுத்து எது என்பதை குறிக்கவும்  
S B M E  
A) M B) B C) S D) E
80. காலியாக உள்ள இடத்தில் சரியான எண்ணை நிரப்பவும்  
  
 A) 3 B) 21 C) 41 D) 9